

على أي بعد قبل موقع الخطر توضع هذه الشاخصة ؟

. m 150 - 50 **A**

. m 250-150 **B**

m 350-250 **C**



ماذا تعني هذه الشاخصة .



A الطريق فيها جليد ويوجد خطر انزلاق

B الطريق فيها خطر أن تكون مسافة الفرملة طويلة

C خطر تطاير حصى

أي شاخصة تعني أن قانون اليمين يسري ؟



A



B



C



D

A الشاخصة **A**

B الشاخصة **B**

C الشاخصة **C**

D الشاخصة **D**


4



A



B



C



D

أي شاخصة تعني أن قانون اليمين يسري ؟

A. الشاخصة C

B. الشاخصة D

C. الشاخصة A

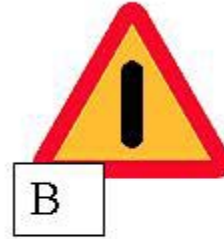
D. الشاخصة B

E. و لا شاخصة

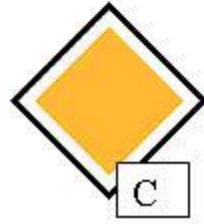
انت تسوق على خط رئيسي اي من هذه القارمات تنبهك من تقاطع معقد



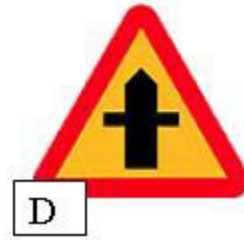
A



B



C



D

- A الشاخصة A
B الشاخصة B
C الشاخصة C
D الشاخصة D

اي شاخصة تستخدم

على طريق رئيسي. لتحذرك من تقاطع خطر.

A. الشاخصة A



A



B



C



D

B. الشاخصة B

C. الشاخصة C

D. الشاخصة D


ماذا تعني هذه الشاخصة ؟

A يوجد تقاطع مع سكة قطار فيها حاجز بعد 150-250 متر.

B يوجد تقاطع مع سكة قطار بدون حاجز بعد 50 متر.

C يوجد تقاطع مع سكة قطار فيها حاجز بعد 50 متر.

D يوجد تقاطع مع سكة قطار بدون حاجز بعد 150-250



ان ترى هذه الشاخصة في يوم حار. ماذا تعني هذه الشاخصة



A الطريق يلف يمين و يسار

B الطريق مزفت جديد

C زلق بسبب اخر غير الثلج

انت اتيت الى هذه الشاخصة في يوم صيفي حار .لماذا يجب ان تقلل السرعة .



A . الطريق يمكن ان يكون زلق بسبب الاسفلت

B .الطريق يحصل فيه حوادث كثيرة .

C . الطريق فيه منعطف او منعطفات كثيرة بعد الشاخصة



A



B



C

عند أي شاخضة تكون سرعتك قليلة

A عند الشاخضة **A**

B عند الشاخضة **B**

C عند الشاخضة **C**



ما تعني هذه الشاخصة

A. تقاطع سكة حديد مع حاجز

B. تقاطع سكة حديد واحدة

C. تقاطع مع عدد من سكك الحديد

D. تقاطع سكة حديد بدون حاجز



ماذا تفعل عندما تقترب من هذه الشاخصة ؟

A يجب ان تترك الأولوية للمشاة من خلال تخفيف السرعة

قبل وقت كافي أو من خلال التوقف

B لايلزم ترك الاولوية للمشاة الذين لم يبدأوا بعبور الشارع

13



A



B



C



D

انت تسوق في طريق ريفي. اي شاخصة تعني انه يوجد معبر مشاة في الامام .

A شاخصة A.

B شاخصة B.

C شاخصة C.

D شاخصة D.



انت تسوق في طريق باتجاه واحد ماذا تعني هذه الشاخصة

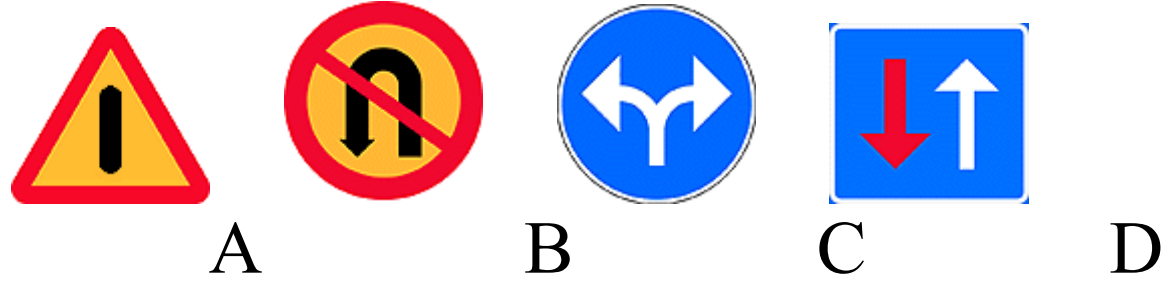
A. الشاخصة تحذر من مرور متقاطع

B. من الممكن مرور مركبات قادمة

C. المركبات القادمة ملزمة بترك الاولوية لي

D. علي واجب اعطاء الاولوية للسيارة المقابلة

E. الطريق سيصبح ضيق



اي شاخصة من هؤلاء الشواخص هي شاخصة تحذير

A . الشاخصة A

B . الشاخصة B

C . الشاخصة C

D . الشاخصة D

اي شاخصة من هذه الشواخص هي شاخصة منع.

A الشاخصة A

B الشاخصة B

C الشاخصة C


D الشاخصة D



A



B



C



D

ما هي المعلومات التي تعطيها هذه الشاخصة في الشارع الذي امامي



A . طريق مغلق

B . ممنوع الوقوف و التوقف

C . ممنوع حركة المرور

D . ممنوع دخول المركبات



A



B

ماذا تعني هذه الشواخص .

- A** الشاخصة A تعني ان الطريق خالي من السيارات
- B** الشاخصة B تعني ممنوع دخول المتور.و لكن مسموح دخول الدراجة
- C** الشاخصة B تعني ان الطريق باتجاه واحد
- D** الشاخصة A تعني ان الطريق باتجاه واحد
-



ماذا تعني هذه الشاخصة

A . فقط الدراجة و سائق الموبيد فئة 2 يستطيع ان يعبر الشاخصة

B . كل انواع العربات ممنوع عليها ان تجتاز الطريق

C . كل العربات ممكن ان يجتازون هذه العلامة . و لكن اذا رجعت الى الورااء
في الطريق

D . الطريق عنده اتجاه واحد للسير



أي من المركبات يمنع دخولها إلى هذا الطريق التي وضعت فيه هذه الشاخصة

A فقط سيارات خاصة

B جميع المركبات الآلية


C كافة المركبات الآلية التي يزيد عدد عجلاتها عن اثنين



ماذا تعني هذه الشاخصة

- A** . ممنوع تجاوز المركبات الالية التي لها اكثر من دولابين
- B** ممنوع دخول المركبات الاكبر من السيارات الخاصة
- C** . ممنوع تجاوز السيارات الخاصة
- D** . ممنوع دخول المركبات الالية التي لها اكثر من دولابين
-

ما هي الشاخصة التي ينتهي مفعولها في التقاطع القادم؟



A الشاخصة A.

B الشاخصة B.

C الشاخصة C.

23



A



B



C



D

انت تسوق سيارة مربوطة فيها مقطورة بمحور واحد اي شاخصة لا يحق لك عبورها

A. الشاخصة A

B الشاخصة B

C . الشاخصة C


D . الشاخصة D



ماذا تعني علامة الطريق

- A.** السيارات القادمة تعطيني الاولوية اذا كان العرض لا يسمح لمرور سيارتين
- B.** انا لا يسمح لي ان اجتاز علامة الطريق لان الجسر هو باتجاه واحد
- C.** العربات المقابلة لا يسمح لها باجتياز الجسر لانه باتجاه واحد
- D.** علي واجب اعطاء الاولوية للسيارة المقابلة فيما لو كان عرض الطريق لا يسمح لمرور مركبتين

ما هي الشاحنة التي تعني انك ملزم بالوقوف
وترك الاولوية للسيارات القادمة ؟



A الشاحنة **A**

B الشاحنة **B**

C الشاحنة **C**

D الشاحنة **D**



ماذا تعني شاخصة الطريق

A . ممنوع تجاوز جميع المركبات التي تدار بمحرك

B . ممنوع تجاوز جميع المركبات التي تدار بمحرك و لها اكثر من دولابين

C . ممنوع تجاوز السيارات الشخصية فقط



إلى متى ينتهي مفعول شاخصة المنع هذه؟

A حتى انتهاء الخط الأبيض المتواصل والموجود في المنتصف.

B 250-150 متر بعد الشاخصة.

C حتى الوصول إلى شاخصة إنهاء

D حتى التقاطع التالي



انت تسوق خلف هذه المركبة . هل يسمح لك بتجاوزها

A نعم. اذا كانت المركبة امامي تسوق في هامش الطريق

B نعم . ولكن اذا لم يكن احد العجلات خارج الخط التواصل

C لا

D نعم اذا كانت المركبة امامي مركبة بطيئة.



A



B



C



D

اي شاخصة من هذه الشواخص تشترط وجود شاخصة انهاء حتى ينتهي مفعولها .

A الشاخصة **A**

B الشاخصة **B**

C الشاخصة **C**

D الشاخصة **D**


أي شاخصة تعني أنك ملزم بالاستدارة نحو اليسار



A



B



C


A الشاخصة **A**B الشاخصة **B**C الشاخصة **C**



A



B



C



D

أي شاخصة تعني أنك ممنوع من السياقة للأمام

A عند الشاخصة **A**

B عند الشاخصة **B**

C عند الشاخصة **C**

D عند الشاخصة **D**





أي إشارة تعني بأن السيارة القادمة يجب ان تعطيك الاولوية في السير ؟

A شاخصة **A**

B شاخصة **B**

C شاخصة **C**

D شاخصة **D**





الشاخصة ؟

ماذا تعني هذه

- A** شاخصة دليلية تؤدي الى طريق خاص , فقط الاشخاص الذين يحملون تصريحاً يسمح لهم السياقة
- B** شاخصة دليلية تؤدي الى طريق خاص و يمكن أن تنقصه الشواخص
- C** شاخصة دليلية تؤدي الى مدينة



لماذا يجب ان اتبع الشاخصة البرتقالية

A لان هذا الطريق افضل

B لان الطريق مقفل للاصلاح

C لان الطريق باتجاه واحد



ماذا تعني هذه الشاخصة؟

- A . انت تسوق في طريق بدلا من طريق رقم 58 .
 - B . انت تسوق في طريق يؤدي الى طريق رقم 58 .
 - C . انت تسوق في طريق رقم 58 .
-



ماذا تعني هذه الشاخصة الزرقاء ؟

- A** شاخصة تدل على طريق خاص .
 - B** شاخصة تدل على طريق عام من مدينة لأخرى .
 - C** شاخصة تدل على منطقة محلية .
-



ماذا تعني هذه الشاخصة

A . انه من غير المناسب ان تسوق اكثر من 30 كم في الساعة

B . ممنوع ان تسوق اكثر من 30 كم في الساعة

C . لازم تسوق السيارة بسرعة 30 كم في الساعة

اي من ايام الاسبوع يسري مفعول شاخصة تحديد السرعة هذه



A . ايام السبت

B ايام الاحد

C ايام السبوع العادية باستثناء اليوم
الذي يسبق يوم الاحد و ايام العطل.

D . كل الايام



ماذا تحذرك هذه الشاخصة

- A اختلاف الارتفاع بين شارعين
- B اعمال طرق
- C قمة مرتفع
- D عوائق جانبية ثابتة

في طريقك الى NYKÖPING تفاجئت ان الطريق مقفل بسبب اعمال الطرق
اي شاخصة توضع لتدلك على مدخل الى

NYKÖPING

- 1 
- 2 
- 3 
- 4 
- 5 

A . الشاخصة 1

B . الشاخصة 2

C . الشاخصة 3

B . الشاخصة 4

C . الشاخصة 5

تصل بسيارتك الى مكان فيه خطوط بيضاء و خطوط برتقالية اللون على مسار
السيارة
ماذا يعني ذلك لك.

A . بإمكانني ان اختار اما اتباع الخطوط البيضاء او الخطوط البرتقالية اللون

B . يلزمنا اتباع الخطوط البرتقالية

C . يلزمنا اتباع الخطوط البيضاء

اي من العبارات التالية صحيحة ؟



A. بما انه ليس هناك ما يحدد الطريق فان الطريق ليس مقسما الى حقول قيادة .

B. اذا وضعت السيارة في حقل القيادة الايسر فيجب علي ان انعطف باتجاه (ننيسهامن / Nynäshamn)

C. اذا استمررت في حقل القيادة الايمن فيجب علي ان انعطف نحو اليمين باتجاه (لانا ان / Länna N)

D. اذا كنت اريد المتابعة باتجاه E4 فبإمكاني ان ابقى في الحقل الايمن



في أي طريق تكون السرعة أقل

A في الطريق A.

B في الطريق B

C في الطريق C

ماذا تعني علامة الطريق الموجودة امامك في الحقل اليميني ؟

A . الطريق يضيق الى الامام .

B . انت تقترب من تقاطع حيث تكون فيه ملزم بترك الاولوية .

C . الطريق يبقى رئيسي بعد التقاطع .

D . الطريق سوف يصبح ذو حقلين في اتجاهي .



تشاهد علامات الطريق التالية الى جانب الرصيف اي من العلامات يعني ممنوع
توقف ووقوف المركبات ؟

A علامات الطريق و فق الصورة A .

A



B . علامات الطريق و فق الصورة B .

B



C . علامات الطريق و فق الصورة C .

C





ماذا تعني هذه الشاخصة .

A الذي يسوق في الحقل اليساري ملزم
بترك الاولوية للاخر الموجود في
الحقل اليميني

B السائقان الموجودان في الحقلين
ملزمين بالآخذ بعين الاعتبار ان
الطريق ستصبح ذو حقل واحد.

C الذي يسوق في الحقل اليميني ملزم بترك الاولوية للاخر الموجود في
الحقل اليساري.

هل يكون لهذه الشاخصة معنى خاص عندما تكون الطريق زلقة ؟



A. نعم . عندما تكون الرياح قوية يصبح تماسك الدواليب مع الطريق افضل

B. كلا . انها تعني انه قد تاتي رياح خطرة من اليسار

C نعم . في الطريق الزلقة قد تؤدي الرياح الجانبية الى انزلاق السيارة .

هل يسمح لك الاستدارة لليسار في التقاطع



A . لا... يجب ان تستمر الى الامام

B . نعم . هذا مسموح

C . لا... يجب ان انعطف الى اليمين

49



A



B



C



D

اي شاخصة من هؤلاء الشواخص تعني انك يجب ان تكون بحذر من انزياح السيارة على الطريق اذا كان الطريق زلق.

A . الشاخصة A

B . الشاخصة B

C . الشاخصة C

D . الشاخصة D

ما هو افضل ان ينتظر في مكان التقابل اذا كانت المنطقة لا بكفي للسيارة المقابلة

A . السيارة التي تاتي اول لمكان التقابل


B . السيارة الموجودة في جهة الشاخصة



هل التجاوز مسموح في احدى هذه الحالات المبينة في الصور ؟



A



B



C



D

A . نعم , في الوضع A

B . نعم , في الوضع B

C . نعم , في الوضع C

D . نعم , في الوضع D

E . لا . ولا في اي وضع

هل يسمح لك بسيارة شاحنة خفيفة تجر خلفها مقطورة بعد هذه الشاحنة؟



A . نعم . و فقط اذا كانت السيارة و المقطورة غير محملة

B . نعم . لان هذه الشاحنة تحدد اقل مسافة بين السيارات.

C . كلا . لان الطريق مخصص فقط للسيارات الخاصة

D . كلا . لان الشاحنة تعني انه غير مسموح للمقطورة.

اي ثلاث مركبات يسمح لك بتجاوزها بعد هذه الشاخصة ؟

A. موبيد ذو عجلتين , دراجة هوائية ,متور سيكل ذو عجلتين.

B. سيارة خاصة ,متور سيكل خفيف , موبيد ذو عجلتين.

C. مركبة بطيئة , دراجة هوائية , متور سيكل مع عربة جانبية.



هذه الشاخصة موجودة في النفق . ماذا تعني ؟

A تدل على الطريق الى الاطفاء.

B تدل على الطريق الى تلفون الطوارئ.

C . تدل على مكان الخروج (الهروب).

D . تدل على طريق المشاة .





ما هي العبارة الصحيحة ؟

A. اذا اردت ان استمر باتجاه لانا \ LÄNNA فيجب علي وضع السيارة الى اليمين على هامش الطريق.

B. اذا اردت ان استمر في الطريق 73 فيجب علي ان انتقل الى احد حقول السياقة اليسرى.

C. اذا اردت ان استمر في الطريق 73 فبامكاني ان ابقى في حقل السياقة اليمين.

	A	B	C	D
1		X		
2		X		
3	X			
4	E	E	E	E
5				X
6			X	
7	X			
8			X	
9	X			
10			X	
11			X	
12	X			
13			X	
14		X		
15	X			

	A	B	C	D
16		X		
17		X		
18				X
19				X
20			X	
21				X
22		X		
23			X	
24				X
25			X	
26		X		
27			X	
28			X	
29		X		
30	X			

	A	B	C	D
31			X	
32				X
33		X		
34		X		
35		X		
36		X		
37	X			
38			X	
39				X
40		X		
41		X		
42				X
43		X		
44		X		
45		X		

	A	B	C	D
46		X		
47			X	
48			X	
49		X		
50	X			
51				X
52		X		
53	X			
54			X	
55			X	
56				
57				
58				
59				
60				

PÄRM 7

Du har fått bensinstopp i en järnvägs korsning. Vad ska du göra?

- A Jag lämnar bilen och försöker stoppa tåget.
 - B Jag lägger i femmans växel och med hjälp av startmotorn kör jag undan bilen.
 - C Jag lägger i en låg växel och med hjälp av startmotorn kör jag undan bilen.
 - D Jag lämnar bilen och ställer mig på ett säkert ställe.
-