

المجموعة السابعة

الإمتحان النهائي

القسم الخامس

1 - ما هي الانارة التي يجب ان تستخدمها في هذا الوضع عند السياقة في الظلام؟

- أ. ضوء الاشعار
- ب. الضوء العادي
- ج. الضوء العالي
- د. ضوء الوقوف



2 - بدأت بتجاوز الشاحنة. ماذا يجب ان تعمل في هذا الوضع؟

- أ. ازيد التسارع لتتم عملية التجاوز بأسرع وقت ممكن
- ب. أتوقف عن عملية التجاوز وأعود الى حقل السياقة الى اليمين
- ج. أعطي اشارة بالضوء العالي لانذار حركة المرور القادمة من الجهة المقابلة



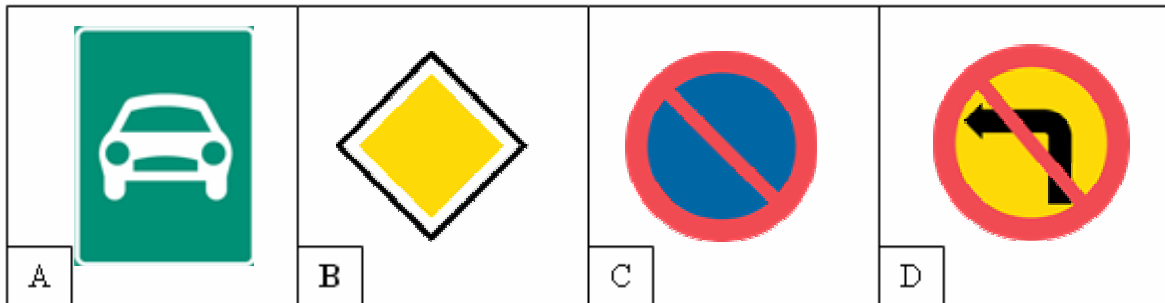
3 - ما هو الشيء الخاص الذي يجب ان تفكر به بصورة شخصية عندما تكون لمبة لوحة باص او حافلة نقل الاطفال تومض كما هو مبين في الصورة؟

- أ. بما ان لمبة لوحة نقل التلاميذ تومض فيجب ان اعطي الاولوية للحافلة  
ب. لا يسمح لاي طفل بالعبور قبل ان تغادر الحافلة المكان  
ج. لا يسمح لاي طفل النزول من الحافلة قبل ان يتوقف وميض لوحة نقل تلاميذ المدارس.  
د. يمكن ان ياتي اطفال راكضين الى الباص من اليمين او اليسار



4 - اي شاخصة من الشواخص المبينة تعني انه لا يحق لك الاستدارة؟

- أ. الشاخصة (A)  
ب. الشاخصة (B)  
ج. الشاخصة (C)  
د. الشاخصة (D)



5 - ماذا تعني شاخصة الطريق؟

- أ. ممنوع تجاوز السيارات الشخصية فقط  
ب. ممنوع تجاوز جميع العربات التي تدار بمحرك  
ج. ممنوع تجاوز جميع العربات التي تدار بمحرك و لها اكثر من عجلتين



6 - انت تقترب من تقاطع في طريق ريفي و تريد الانعطاف نحو اليسار في التقاطع ما هي المركبة المقابلة التي يكون تقدير سرعتها صعبا عليك؟

- أ. السيارة الخصوصية  
ب. الشاحنة  
ج. الدراجة النارية  
د. التركتور

7 - ما هو اكثر خطر موجود في هذه الحالة؟

- أ. ان تقوم العربة الموجودة امامي بتبديل حقل القيادة
- ب. ان تقوم العربة الموجودة امامي بالفرملة
- ج. ان يتم تجاوزي من ناحية اليسار
- د. ان يتم تجاوزي من ناحية اليمين



8 - لقد مررت منذ لحظات بهذه الشاخصة . ما هو الشيء الذي يسري في التقاطع الذي ستصل اليه اذا لم يذكر شيء اخر؟

- أ. يجب على جميع العربات في حركة المرور المتقاطع ان تدعني اسير
- ب. يجب ان اترك العربات القادمة من اليسار ان تسير قبلي
- ج. يجب ان اترك العربات القادمة من اليمين ان تسير قبلي
- د. يجب ان اترك حركة المرور المتقاطعة ان تسير قبلي



9 - تصل بسيارتك الى مكان فيه خطوط بيضاء و خطوط صفراء او برتقالية اللون على مسار السياقة ماذايعني ذلك لك؟

- أ. بإمكانني ان اختار الخطوط البيضاء او الخطوط الصفراء او البرتقالية اللون  
ب. يلزمنا اتباع الخطوط البيضاء  
ج. يلزمنا اتباع الخطوط الصفراء او البرتقالية

10 - هل يسمح لك الانعطاف الى اليسار في التقاطع؟

- أ. لا، يجب ان انعطف الى اليمين  
ب. نعم، هذا مسموح  
ج. لا، يجب ان استمر في القيادة الى الامام



11 - هل يمكن ان تقوم عن طريق اختيار طراز العربة تقليل التاثير السلبي على البيئة؟

- أ. نعم. عن طريق اختيار طراز عربة ذو وزن خدمة مرتفع  
ب. نعم . عن طريق اختيار طراز عربة مجهزة بمحرك ذو قدرة عالية  
ج. نعم . عن طريق اختيار عربة من طراز ذو استهلاك منخفض للوقود  
د. لا . ان اختيار طراز العربة لا يؤثر على البيئة

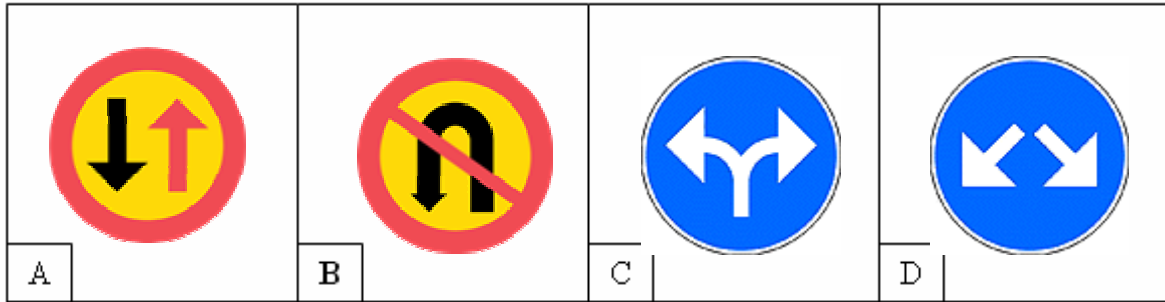
12 - هل يسمح لك بالتجاوز مباشرة قبل قمة مرتفع عندما تكون الرؤية محجوبة، إذا كانت الطريق مكونة من حقل سير واحد في كلا الاتجاهين؟

أ. كلا، لايسمح بالتجاوز

ب. نعم، ان اعطت المركبة التي اريد تجاوزها اشارة بعدم وجود سير مقابل  
ج. نعم، اذا كانت العربة التي اريد تجاوزها هي تراكاتور او جرار مع مقطورة

13 - أي شاخصة تعني بانه ممنوع السياقة باتجاه الأمام؟

- أ. عند الشاخصة (A)  
ب. عند الشاخصة (B)  
ج. عند الشاخصة (C)  
د. عند الشاخصة (D)



14 - تقود سيارة لاتحتوي على كابح ضد الانغلاق، ما الذي يجب عليك عمله اذا انزلت السيارة على طريق زلق؟

أ. افصل التروس و اقود باتجاه الطريق

- ب. اضغط على الكابح بخفة و انحرف الى جهة اليمين  
ج. اضغط على الكابح بقوة و اقود باتجاه الطريق  
د. افصل التروس و اضغط على الكابح بقوة

15 - أنت تسوق سيارة خاصة فيها مرشح حافز، ما هو الغاز الذي لا يستطيع المرشح الحافز تصفيته او تخفيفه؟

- أ. غاز الهيدرو كربون
- ب. غاز ثاني أوكسيد الكبريت
- ج. غاز ثاني أوكسيد الكربون
- د. غاز أول أوكسيد الكربون

16 - انت رأيت خطرا وقيمت بتقليل السرعة من (100) كم/الساعة الى (50) كم/الساعة. كيف تتأثر مسافة الفرملة؟

- أ. مسافة الفرملة تقل حتى الخمس
- ب. مسافة الفرملة تقل حتى النصف
- ج. مسافة الفرملة تقل حتى الربع
- د. مسافة الفرملة تقل حتى الثلث

17 - اي احتمال لهذه المركبات يجب ان تكون السرعة القصوى (80) كم في الساعة عندما تعبر هذه الشاخصة؟

- أ. سيارة شخصية تجر خلفها مقطورة
- ب. الشاحنة الثقيلة
- ج. الشاحنة الخفيفة
- د. باص وزنه الاجمالي (3.5) طن





18 - في اي وضع يسمح لك بالتوقف بسيارتك اقل من (10) امتار قبل معبر المشاة؟

- أ. عندما احمل بضائع
- ب. عندما تريد ان تتجز مهمة بسرعة
- ج. عندما تريد ان تنزل ركاب
- د. عندما اريد ان ادع المشاة يعبرون الشارع

19 - هل تستطيع التجاوز من جهة اليمين(السيارة الأمامية قد اعطت اشارة الأنعطاف نحو اليسار...). في هذا الوضع في الصورة؟

- أ. نعم، استطيع التجاوز
- ب. لا، لا استطيع التجاوز



20 - كيف تتاثر قابلية السياقة بالتوتر او الأجهاد؟

- أ. التوتر لا يؤثر على قابلية السياقة
- ب. التوتر الكثير يسيئ من قدرة السياقة
- ج. التوتر يؤثر بشكل سلبي على مقدرة السياقة

21 - في اي وقت من النهار يوجد اكثر خطورة لمرور الحيوانات البرية؟

- أ. عند الشروق و الغروب تتحرك الحيوانات بشكل اكبر
- ب. في الليل لان الحيوانات تبحث عن اولادها
- ج. في وسط النهار لان الحيوانات تكون نشيطة وتبحث عن الطعام

22 - انت تقود في طريق ريفي فيه حركة مرور كثيرة و تكتشف بانه يجب عليك ان تستدير و تعود في الاتجاه المعاكس ما هي الطريقة الاكثر امانا عادة عند الأستدارة او الألتفاف في مثل هذه الحالات؟

- أ. الرجوع الى الورااء في الطريق الريفي اذا كان هناك طريق متقاطع معه
- ب. الأستدارة او الألتفاف على شكل حرف (U) في الطريق الريفي
- ج. الانعطاف الى طريق اصغر ثم الرجوع الى الورااء في الطريق الريفي
- د. الانعطاف الى طريق اصغر والأستدارة او الألتفاف هناك

23 - لقد قدت سيارتك خلال فترة طويلة و تشعر بالتعب و فجأة يسقط راسك اماما و تفهم انك على وشك ان تنام . ما هو افضل شئ يجب ان تفعله في هذه الحالة؟

- أ. اخذ استراحة قصيرة
- ب. افتح النافذة
- ج. اتوقف لاتناول الطعام
- د. اتوقف لكي انام

24 - كيف تعرف بصورة اكيدة انه بمقدورك تعاطي الدواء اذا كنت ستقوم بسيارة العربية؟

- أ. اذالك كان الدواء يباع بدون وصفة طبية فيستحسن دائما استعماله
- ب. يكفي ان ادقق على وجود نص تحذير على العلبة
- ج. يكفي ان ادقق على وجود مثلث انذار احمر اللون
- د. يجب ان اسال الطبيب او مستخدمي الصيدلية

25 - تنوي الأنعطاف نحو اليسار في هذا التقاطع، راكب الدراجة الهوائية يسوق ببطء ماذا يجب عليك ان تفعل في هذه الحالة؟

- أ. اسوق اولاً لاني اسوق على الطريق الاكبر
- ب. اترك راكب الدراجة يسوق اولاً لانه قادم من جهة اليمين
- ج. اسوق اولاً لاني سأتجه نحو اليسار



26 - أنت تسوق سيارة في طريق يوجد فيه صيانة وتصلح للطريق .على ماذا يجب ان تنتبه؟

- أ. تنتبه للشواخص الموجودة على الطريق
- ب. تنتبه للعمال الموجودين على الطريق
- ج. تنتبه لحالة الطريق



27 - أنت تسوق خلف هذه المركبة. هل يسمح لك بتجاوزها؟

- أ. نعم. اذا كانت المركبة امامي تسوق في هامش الطريق
- ب. نعم. اذا لم تكن احد العجلتين تجاوز الخط المتواصل
- ج. لا، لا يسمح لي بالتجاوز
- د. نعم. بما ان المركبة التي امامي هي مركبة مقطورة



28 - ما هي العربة التي يسمح لك قيادتها برخصة سياقة من الفئة (B)؟

- أ. سيارة خصوصية مع مقطورة ثقيلة موصولة بها
- ب. دراجة نارية مع عربة جانبية
- ج. شاحنة يبلغ وزنها الاجمالي (3.1) طن
- د. حافلة مخصصة لعشرة ركاب

29 - أنت تسوق على الأوتوستراد. في أي وضع لا يحق لك التجاوز؟

- أ. مباشرة قبل مرتفع
- ب. مباشرة قبل منعطف
- ج. عندما تبدأ العربة التي خلفي القيام بعملية التجاوز

30 - على بعد كم من تقاطع سكة القطار يسمح لك بالوقوف او باركان السيارة؟

- أ. (10) متر من التقاطع
- ب. (30) متر من التقاطع
- ج. (40) متر من التقاطع
- د. (20) متر من التقاطع

31 - كيف تستطيع تقصير وقت رد الفعل؟

- أ. من خلال تخفيف السرعة
- ب. من خلال التخريم الجيد للاطار
- ج. من خلال زيادة الانتباه و المعرفة بخصوص ما يحدث في حركة المرور

32 - من يسمح له بالوقوف في هذا المكان المبين في الشاخصة؟

- أ. المعاقين و العجزة الذين يحملون تصريحاً خاصاً
- ب. الاشخاص الذين يحصل معهم مرض مفاجئ
- ج. العجزة الذين معهم مرض دائم
- د. كرسي العجزة



33 - في طريقك الى مدينة (ني شوبينك) ان الطريق مغلق بسبب اعمال الطرق. اي شاخصة توضع لتدلك الى مدخل مدينة (ني شوبينك)؟

- أ. الشاخصة (1)
- ب. الشاخصة (2)
- ج. الشاخصة (3)
- د. الشاخصة (4)
- ه. الشاخصة (5)



34 - ما هو الدليل على ان السائق هو سائق ناضج؟

- أ. يتاثر بقوة باخطاء الآخرين
- ب. عنده طريقة سياقة عشوائية
- ج. عنده معرفة جيدة بالذات او بالنفس
- د. عنده طريقة سياقة هجومية

35 - أي من العبارات التالية صحيحة بخصوص الصورة ادناه؟

- أ. لا يوجد ما يحدد الطريق فأن الطريق ليس مقسما الى حقول قيادة  
ب. اذا وضعت السيارة في حقل اليسار فيجب علي ان انعطف باتجاه (تينيسهامن)  
ج. اذا استمررت في حقل اليمين فيجب ان انعطف نحو اليمين باتجاه (لاناان)  
د. اذا اريد الأستمرار باتجاه (ايه-4) (E 4) فبأمكنني ان ابقى في الحقل الايمن



36 - يجب ان يكون لديك اكبر عمق في نموذج دواليب العجلات الخلفية، لماذا؟

- أ. تتعرض العجلات الخلفية لأكبر قدر من الاجهاد عن طريق الحمولة الموجودة في صندوق الامتعة.  
ب. عند الفرملة بشدة يزيد الاجهاد اكثر شيء على العجلات الخلفية  
ج. تصبح خواصالسياسة و الطريق افضل اذا كان للعجلات الخلفية تماسكا افضل على الطريق.

37 - انت تسوق في الظلام في طريق رئيسي خارج المناطق السكنية. و هناك سيارة مقابلة فتحولت الى الضوء العادي. متى تستطيع العودة الى الضوء العالي؟

- أ. مباشرة بعد التقابل  
ب. تقريبا (30) متر قبل التقابل  
ج. تقريبا (30) متر بعد التقابل

38 - متى تستطيع التقليل من ضرر البيئة عندما تغسل سيارتك؟

- أ. في مكان مخصص لغسل السيارات مزود بمصرف يفصل الماء عن الزيت
- ب. عندما اغسل السيارة في طريق حصي
- ج. عندما اغسل السيارة على العشب
- د. عندما اغسل السيارة على الاسفلت بوجود مصرف للماء

39 - انت أوقفت السيارة يوم الاربعاء الساعة (16.00) واليوم التالي هو يوم أسبوع عادي .متى أنت ملزم باخذ السيارة من الموقف ؟

- أ. الاربعاء الساعة (15.00)
- ب. الخميس الساعة (10.00)
- ج. الخميس الساعة (8.00)





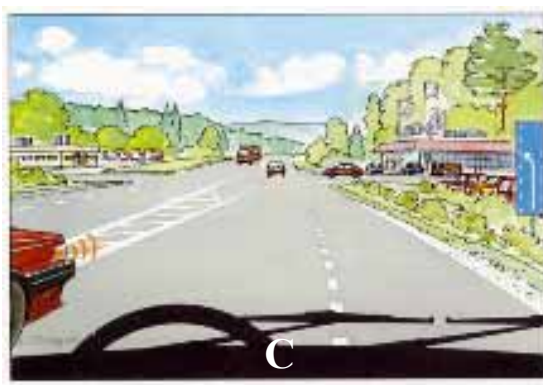

40 – انت تنوي الاستدارة باتجاه اليسار في هذا التقاطع ما هو الاحتمال الصحيح؟

- أ. يجب ان اعطي الاولوية لكافة المركبات الموجودة في التقاطع  
ب. يجب ان اقف قبل ان استدير في التقاطع  
ج. يجب ان اعطي الاولوية للعربات القادمة من اليمين



41 - في اي وضع من الاوضاع يكون من المناسب استعمال جانب او طرف الطريق لتسهيل عملية التجاوز؟

- أ. في الصورة (A)  
ب. في الصورة (B)  
ج. في الصورة (C)  
د. في الصورة (D)



42 - انت تقود العربة و الحقت اصابة بغزال و فر هاربا داخل الغابة .هل انت ملزم بوضع علامة على المكان الذي اختفى فيه الغزال. ماذا يجب عليك ان تفعل في هذه الحالة؟

- أ. لا . لايلزم ذلك لان الحيوان يمكن ان يكون قد غادر ذلك المكان بنفسه
- ب. نعم . انا ملزم بوضع علامة على المكان لان الحيوان مصاب
- ج. لا . يلزم ذلك فقط اذا كنت قد دهست و اصبت احد حيوانات الآيل

43 - هل تستطيع توفير البنزين من خلال استخدام الغيار؟

- أ. نعم . من خلال السياقة باقل غيار ممكن
- ب. لا . الغيار ليس له اهمية في توفير البنزين
- ج. نعم . من خلال السياقة باعلى غيار ممكن

44 - انت تقف على جانب الطريق و تنتظر شخص متأخر. الطريق مظلم ولا يوجد فيه اضاءة كافية. اي ضوء سوف تستخدم؟

- أ. الغمازات
- ب. الضوء العادي
- ج. ضوء الوقوف
- د. الضوء العالي

45 - ما هو الصحيح فيما يتعلق بتوقيف العربة في شارع مجمع سكني؟

- أ. لا يسمح للمرء قطعيا توقيف العربة في شارع مجمع سكني
- ب. يسمح توقيف العربة في شارع مجمع سكني فقط في اماكن الوقوف
- ج. يسمح توقيف العربة في اي مكان في شارع مجمع سكني اذا لا تعيق حركة مرور اخرى.
- د. يجب ان اكون حاصلًا على تصريح خاص لكي يسمح لي توقيف العربة في شارع مجمع سكني.

46 - هل ضغط الهواء في الاطار يؤثر على استهلاك البنزين؟

أ. نعم . الضغط المنخفض في الاطار يزيد من استهلاك البنزين

ب. لا . ضغط الهواء لا يؤثر استهلاك البنزين

ج. نعم . الضغط المرتفع في الاطار يزيد من استهلاك البنزين

47 - ما هو الشئ الذي يجدر بك معرفته عن خواص قيادة العربات ذات الدفع على العجلات الخلفية بالمقارنة مع العربات ذات الدفع على العجلات الامامية؟

أ. ان هناك خطر اكبر في التعرض للانزلاق بالجهة الخلفية على الطريق الزلقة

ب. ان العربة تصبح صعبة التوجه بصورة اكبر

ج. ان العربة تصبح ذات قدرة فرملة اسوأ

د. تكون العربة ذات مقدرة تسارع اسوأ

48 - ماذا يعني مصطلح، شاحنة خفيفة؟

أ. شاحنة ذات وزن اجمالي اقصاه (3.5) طن

ب. شاحنة ذات وزن قائم اقصاه (3.5) طن

ج. شاحنة ذات حمولة اقصاها لا تزيد على (3.5) طن

د. شاحنة ذات وزن صافي اقصاه (3.5) طن

49 - انت تلتقي مع سيارة قادمة من الجهة الخاطئة من الطريق كيف تتصرف؟

- أ. انقل سيارتي الى جهة اليسار حتى اتجنب الاصطدام
- ب. افرمل وأوجه سيارتي نحو اليمين
- ج. اتوجه بسرعة الى اليسار لكي اتجنب الاصطدام



50 - عندما توجه العربة في المنعطف تشعر ان العربة تنعطف اكثر من ما يعادل  
لف عجلة القيادة ما هو سبب ذلك؟

- أ. ان حالة دواليب العربة الامامية اسوأ من حالة دواليبها الخلفية
- ب. العربة محملة بصورة ثقيلة في الخلف
- ج. ان منظومة التوجيه الهيدروليكي لا تعمل
- د. العربة محملة بصورة ثقيلة في الامام

51 - انت تفكر ان تسوق سيارة في شهر شباط عندما يكون الطقس كما هو مبين في الصورة ما هو اقل عمق للأطوار او الدولااب؟

- أ. (1.0) ملم
- ب. (1.6) ملم
- ج. (3.0) ملم
- د. (5.0) ملم
- ه. (6.0) ملم



52 - في اي وضع من الاوضاع لا يسمح لك السير على الخط الابيض المتواصل؟

- أ. في الوضع (A)
- ب. في الوضع (B)
- ج. في الوضع (C)



53 - انت تسوق بسرعة (80) كم في الساعة و السيارة التي خلفك تريد ان تتجاوزك ماذا يجب ان تفعل؟

- أ. اضع سيارتي داخل هامش الطريق
- ب. اضع سيارتي قريبة من خط الجانب
- ج. اقوم بزيادة السرعة
- د. افرمل



54 - ماذا يحدث اذا اعرت سيارتك لشخص ليس عنده شهادة سياقة؟

- أ. فقط هو الذي يعاقب
- ب. انا و الذي يسوق كلانا نحصل على المخالفة او العقوبة
- ج. فقط انا اعاقب

## 55 - ماذا تعني علامة الطريق؟

- أ. السيارات القادمة تعطيني الاولوية اذا كان العرض لا يسمح لمرور سيارتين  
ب. لا يسمح لي ان اجتاز شاخصة الطريق لان الجسر هو باتجاه واحد  
ج. العربات المقابلة لا يسمح لها بأجتياز الجسر لانه باتجاه واحد  
د. يجب ان اعطي الاولوية للسيارة المقابلة فيما لو كان عرض الطريق لا يسمح لمرور مركبتين



56 - ان درجة الحرارة في حدود صفر درجة مئوية . في اي من الازواض التالية يوجد اكبر خطر لتعرضك للانزلاق المفاجئ في اجزاء معينة من الطريق؟

- أ. عندما اسوق العربة في نفق  
ب. عندما اسوق العربة على جسر  
ج. عندما اسوق العربة على هامش الطريق

57 - هل عندك واجب اعطاء الاولوية للمشاة في هذا الوضع؟

- أ. نعم . بما ان معبر المشاة غير محروس عندما لا تضيئ الإشارة الضوئية.  
ب. لا . بما ان المشاة مازالوا لم يعبروا على معبر المشاة  
ج. لا . بما انه يوجد إشارة ضوئية



58 - انت تسوق في هامش الطريق وتنوي العودة للطريق. من هو الملزم بواجب اعطاء الاولوية لبقية العربات؟

- أ. انا ملزم بواجب اعطاء الأولوية  
ب. السيارة الموجودة خلفي في الطريق تعطيني الأولوية





59 - ماهو القانون الساري في التقاطع عندما تنوي الأستمرار بالسياسة باتجاه الأمام؟

- أ. يجب على ان اقوم باعطاء الأولوية حسب قاعدة اليمين لكوني اسوق في الطريق الريفي الصغير ( الطريق الخاص).
- ب. لكوني اريد الأستمرار بالسياسة باتجاه الأمام سوف اسوق اولاً
- ج. السائق في السيارة القادمة من جهة اليمين يجب ان يعطي اولوية السياسة لي لكونه قادم من الطريق الخاص.
- د. كوني اسوق في الطريق العام يجب ان اسوق اولاً



60 - ما هو الادعاء الصحيح؟

- أ. مسموح الوقوف في الايام العادية الساعة (15.00)
- ب. مسموح الوقوف في ايام الاحد الساعة (8.00)
- ج. يسمح بالوقوف الساعة (9.00) ايام السبت الخالية من الاعياد



61 - في اي وضع ممنوع استخدام ضوء الضباب الخلفي؟

- أ. عندما يوجد شتاء خفيف بالظلام
- ب. عند الضباب في ضوء النهار
- ج. عند الضباب في الظلام
- د. عند الضباب في ضوء النهار

62 - كيف يتفهم السائقين الشباب مقدرتهم على السياقة بصورة عامة؟

- أ. ان معظم الشباب يعتقدون انهم يسوقون بصورة افضل من المعدل العام للسائقين.
- ب. ان معظم الشابات يعتقدون انهم يسوقون بصورة افضل من المعدل العام للسائقين.
- ج. يعتقد كل السائقين الشباب و الشابات انهم يسوقون بصورة افضل من المعدل العام للسائقين.

63 - انت تسوق في الاوتوستراد وتقترب منك سيارة قادمة من مسار الدخول الى الأوتوستراد كيف تتصرف في هذه الحالة؟

- أ. يجب أن اغير الى حقل السياقة الأيسر لتجنب الحادث
- ب. لا يلزم عمل شيء لأنني اسوق في طريق الأوتوستراد
- ج. يجب ان اقوم بعملية التناسق و اناسب سرعتي معه حتى أسهل دخوله الى الأوتوستراد



64 - اصيبت سيارتك بعطل في المحرك في مكان يمنع التوقف فيه، ما هي العبارة الصحيحة؟

- أ. يجب ان انقل السيارة باسرع ما يمكن اذا كانت تقف في طريق تبلغ السرعة القصوى فيه (50) كم/سا او اقل.
- ب. يجب ان انقل السيارة باسرع ما يمكن اذا كانت تقف في طريق تبلغ السرعة القصوى فيه (70) كم/سا او اكثر.
- ج. يجب ان انقل السيارة باسرع ما يمكن بغض النظر عن حدود السرعة المقررة على الطريق.
- د. لست مضطرا لنقل السيارة اذا وضعت مثلث التحذير على بعد مناسب

65 - ماذا تسمى طريقة السياقة التي يتكيف السائق فيها حسب الآخرين الموجودين في حركة المرور و يخطط السياقة؟

- أ. هجومية
- ب. مجهدة
- ج. دفاعية
- د. عفوية

66 - عند اجراء فحص قوي للفرامل، كيف يمكنك ان تحدد ما اذا كانت الفرامل غير القابلة للانغلاق (ا بيه اس) (ABS) تعمل بشكل صحيح؟

- أ. تسمع صوتا قويا من الدواليب
- ب. تشعر باهتزاز في دواسة الفرامل
- ج. لاحظ ان العجلات تنغلق

67 - انت تقود عربة تسري عليها المعلومات التي تراها مبينة على شهادة التسجيل. يوجد لديك امتعة في العربة وزنها (550) كغم هل يسمح لك بالاضافة الى ذلك تحميل ركاب؟

أ. نعم  
ب. لا

المعلومات: وزن الخدمة الفعلية (1250) كغم، الحمولة القصوى (550) كغم، الوزن الكلي او الأجمالي (1800) كغم.

| Fordonsidentitet och kaross          |   |  |   |   |
|--------------------------------------|---|--|---|---|
| A. Registreringsnummer<br>GLG 944    | (D.20) Tillverkningsår - månad<br>2007-10     | (D.16) Bredd, mm<br>1760                             | S.1 Antal säten/örsätar invid förarsätet<br>5               | (D.5) Karossen<br>AC Stationsvagn Kombivagn<br>Personbilsclass I          |
| J. Funktionskategori<br>Personbil    | R. Färg<br>Svart                              | (D.5) Utrustning                                     | D.1 Märke<br>VW   | D.3 Hantverksbeteckning<br>VW Golf 1,6                                    |
| (D.17) Längd, mm<br>4200             | F. Identifikationsnummer<br>WWWZZZ1KZ8W131862 | D.2 Variant<br>ACBSEX0                               | K. Typgodkännandenummer<br>E1*2001/116*0242*21              | D.2 Version<br>FMSFM5AF0060GGN1   |
| Vikter                               |   |  |   |   |
| G. Tjänstevikt, kg<br>1250 kg        | (P.6) Maxvikt, kg<br>550 kg                   | F.1 Totalsvikt, kg<br>1800 kg                        | (P.7) Skattsvikt, kg<br>1250 kg                             | F.2 Högst tillåtna sammanlagda bruttovikt för bil och släp, kg<br>3000 kg |
| Kopplingsanordning                   |   |  |   |   |
| (D.11) Koppling, typ                 | (D.13) Bromsstag                              | O.2 Högst tillåtna vikt obromsadt släp, kg<br>620 kg | O.1 Högst tillåtna vikt bromsadt släp, kg<br>1200 kg        | (D.3) Högst tillåtna totalvikt på släpet för 8-axelslär, kg<br>1250 kg    |
| Motor och växellåda                  |   | Axlarna och hjul                                     |   |   |
| P.2 Maximal nettoeffekt, kW<br>75 EG | (P.6) Växellåda<br>Manuell                    | (D.8) Däckdimension bak<br>195/65 R15 91T            |   |   |
| P.1 Slagolyer, ocm<br>1595           | T. Högst tillåtna hastighet, km/h<br>184      | Miljöfakta   |   |   |
| P.3 Drivmedel<br>Bensin              |   | (V.10) Miljöklass<br>2005                            | V.8 Bränsleförbrukning vid blandad körning<br>07,4 l/100 km | V.7 CO <sub>2</sub> , g/km<br>176   |

68 - ما هو انسب موضع عند الانعطاف باتجاه اليمين في التقاطع وهناك سيارات من الخلف؟

أ. ساضع السيارة الى اقصى اليمين في حقل القيادة  
ب. ساضع السيارة الى اقصى اليمين على جانب الطريق  
ج. ساضع السيارة قرب خط الوسط  
د. ساضع السيارة في وسط حقل القيادة



69 - ما هي السرعة القصوى المسموحة بها عندما تسحب سيارة بواسطة حبل السحب؟

أ. (20) كم/ساعة

ب. (30) كم/ساعة

ج. (40) كم/ساعة

70 - انت تريد الاستدارة لليمين في التقاطع. ما هو الاحتمال الصحيح؟

أ. يجب ان تكون حذرا قبل الاستدارة في التقاطع

ب. عندي واجب اعطاء الاولوية لكل السيارات في التقاطع

ج. عندي واجب اعطاء الاولوية للسيارات القادمة من اليسار

د. يجب ان اقف قبل الاستدارة في التقاطع



المجموعة السابعة

الإمتحان النهائي

القسم السادس

1 - أنت تسوق في طريق وتنوي الدخول في طريق رئيسي حيث السرعة القصوى (90) كم/سا، كيف تتصرف؟

- أ. يجب ان تراقب حركة السيارات التي تسير خلفك وتتسارع بسرعة  
ب. يجب أن تسوق في هذا الطريق ببطء  
ج. يجب أن تسوق في طرف الطريق

2 - أنت تتابع سيرك مباشرة باتجاه الأمام، من لديه أفضلية المرور في هذه الحالة؟

- أ. السائق في السيارة السوداء ملزم بترك أفضلية المرور لي  
ب. انا ملزم بترك أفضلية المرور للسيارة السوداء القادمة من جهة اليمين



3 - في اي من الاشكال المبينة في الصور ادناه يحق لك استخدام الضوء العالي فترة اطول قبل ان تتحول الى الضوء العادي او النصفى اثناء السياقة في الليل ؟

- أ. في الشكل (A)  
ب. في الشكل (B)  
ج. في الشكل (C)



4 - أنت تقود العربة وأصطدمت بغزال وفر هاربا داخل الغابة . هل أنت ملزم لوضع علامة في المكان الذي اختفى فيه الغزال . ماذا يجب عليك أن تفعل في هذه الحالة؟

- أ. لا يلزم ذلك لان الحيوان يتمكن ان يكون قد غادر ذلك المكان بنفسه  
ب. نعم. انا ملزم بوضع علامة على المكان لان الحيوان مصاب  
ج. لا . لا يلزم ذلك فقط اذا كنت قد دهست وأصبت أحد حيوانا الأيل  
د. اضع علامة على مكان الحادث وبعدها ابليغ الشرطة بالحادث



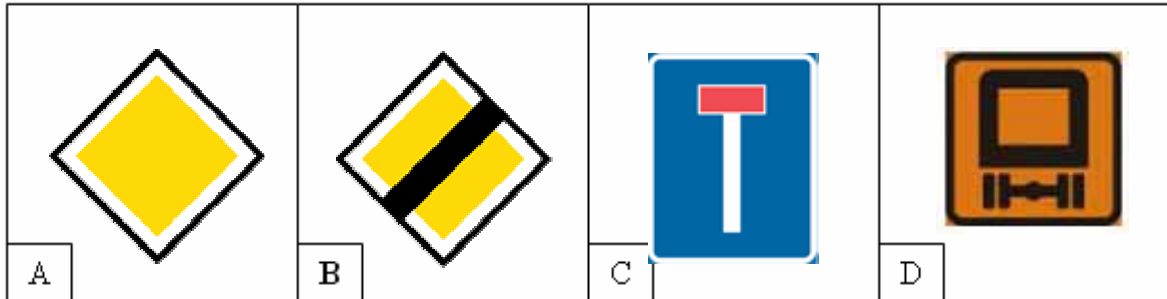
5 - هل يجب عليك تخفيف السرعة في احدى الحالات لترك أفضلية المرور للباص او الحافلة ؟

- أ. نعم، اقوم بتخفيف السرعة في الوضع (A)  
ب. نعم، اقوم بتخفيف السرعة في الوضع (B)  
ج. نعم، اقوم بتخفيف السرعة في الحالتين  
د. لا، لا اقوم بتخفيف السرعة في الحالتين



6 - إي شاخصة من هذه الشواخص تعني انه لا يحق لك الوقوف؟

- أ. الشاخصة في الشكل (A)  
ب. الشاخصة في الشكل (B)  
ج. الشاخصة في الشكل (C)  
د. الشاخصة في الشكل (D)



7 - أنت تسوق بسرعة (70) كم/سا، كم سوف تقطع السيارة في الثانية الواحدة؟

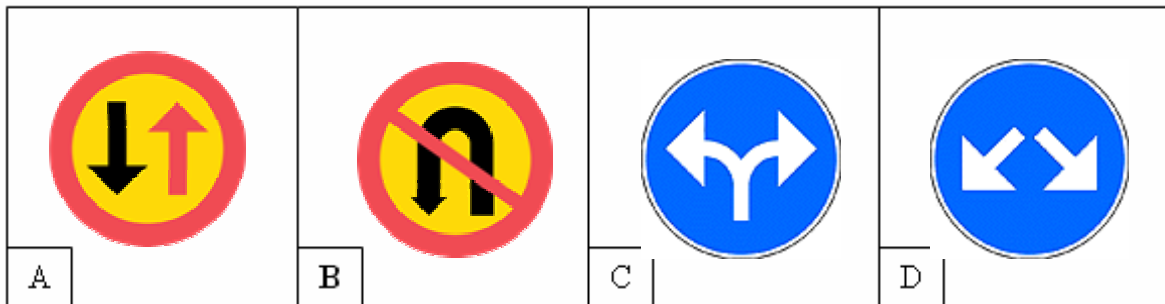
- أ. ستقطع السيارة في الثانية الواحدة (15)
- ب. ستقطع السيارة في الثانية الواحدة (20)
- ج. ستقطع السيارة في الثانية الواحدة (25)
- د. ستقطع السيارة في الثانية الواحدة (30)

8 - كيف تعرف انه لا يحق لك سيطرة السيارة في حال عدم إجراء فحص خلال خمسة أشهر؟

- أ. تنتظر قرار من البوليس
- ب. تنتظر قرار من ادارة المرور
- ج. يجب أن تعرف اوتوماتيكيا أنه لا يحق لك سيطرة السيارة

9 - أي شاخصة تعني بانه لا يحق لك السيطرة باتجاه الأمام؟

- أ. الشاخصة في الشكل (A)
- ب. الشاخصة في الشكل (B)
- ج. الشاخصة في الشكل (C)
- د. الشاخصة في الشكل (D)



10 - انت وصلت الى معبر مشاة غير محمي، وهناك مجموعة من اطفال الروضة يريدون عبور الشارع كيف تتصرف؟

- أ. اتوقف وأشير للاطفال لكي يعبروا
- ب. اذا كان هناك فراغ بين الأطفال عندها يحق لي العبور لكن بحذر شديد
- ج. انا ملزم بترك الاولوية لذلك أتوقف وانتظر حتى يعبر جميع الاطفال

11 - أنت استعرت سيارة ذات دفع خلفي، بدل السيارة ذات الدفع الأمامي التي اعتدت على قيادتها ما هو اهم فرق تشعر به عندما تقود السيارة على طريق زلق؟

- أ. السيارة ذات الدفع الخلفي تنزلق غالبا من الخلف
- ب. السيارة ذات الدفع الخلفي تنزلق غالبا من الامام
- ج. السيارة ذات الدفع الخلفي تنزلق عادة في المنحدرات

12 - ان الشكل يبين بأن القطار اجتاز الحواجز مرتفعة. هل يحق لك اجتياز التقاطع قبل ان تنطفئ الاشارة الضوئية الحمراء؟

- أ. نعم، لان الحواجز مرتفعة
- ب. نعم، عندما تكون الرؤية غير محجوبة
- ج. كلا، لايجوز الأجتياز



13 - اي شخص يتاثر كثيرا بما يسمى بتاثير الجماعة؟

- أ. الذي عنده معرفة جيدة بالذات او بنفسه
- ب. الذي عنده معرفة سيئة بنفسه او بذاته
- ج. الذي عنده خبرة في القيادة

14 - ما هي العربات او المركبات التي يجب ان تجهز بمثلثين عاكسين من جهة الخلف؟

- أ. كافة العربات المقطورة
- ب. كافة الشاحنات
- ج. كافة التراكتور



15 - أنت رأيت خطرا وقمت بتقليل السرعة من (100) كم في الساعة الى (50) كم في الساعة كيف تتأثر مسافة الفرملة؟

- أ. انها تقل حتى الخمس
- ب. انها تقل حتى الربع
- ج. انها تقل حتى النصف
- د. انها تقل حتى الثلث

16 - لقد قدت سيارتك خلال فترة طويلة، وتشعر بالتعب، فجأة يسقط رأسك اماما وتفهم بانك على وشك ان تنام. ما هو افضل شئ يجب ان تفعله في هذه الحالة؟

- أ. اتوقف لكي انام
- ب. افتح النافذة
- ج. اتوقف لاتناول الطعام
- د. أخذ استراحة قصيرة

17 - ما هو الادعاء الصحيح بخصوص الشاخصة ادناه؟

- أ. يسمح بالوقوف الساعة ( 09.00 ) أيام السبت الخالية من الاعياد والعطل الرسمية
- ب. مسموح الوقوف في الايام العادية الساعة ( 15.00 )
- ج. مسموح الوقوف ايام الاحد الساعة ( 08.00 )



18 - من الافضل للبيئة ان تقوم بتخفيف سرعة السيارة من خلال رفع رجلك عن دواسة البنزين بدلا من استعمال دواسة الفرامل العادية على مداخل الطرق والتقاطعات. ما هو أهم سبب لذلك؟

- أ. يقل اهتراء الأتارات وهذا يقلل من تطاير الأجزاء الصغيرة من الأتار
- ب. يقل استهلاك البنزين وبذلك يقل انبعاث الغازات
- ج. الفرامل تستهلك اقل ويقل تطاير الأجزاء الصغيرة في للبيئة
- د. تزداد حرارة المحرك عند تخفيف السرعة وبذلك يقل انبعاث الغازات السامة

19 - لقد مررت منذ لحظات بهذه الشاحنة . ما هو الشيء الذي يسري في التقاطع الذي ستصل اليه اذا لم يذكر شيء اخر بخصوص ذلك؟

- أ. يجب على جميع العربات في حركة المرور المتقاطع ان تدعني اسير
- ب. يجب ان اترك العربات القادمة من اليسار ان تسير قبلي
- ج. يجب ان اترك العربات القادمة من اليمين ان تسير قبلي
- د. يجب ان اترك حركة المرور المتقاطعة ان تسير قبلي



20 - انت تسوق في جانب او هامش الطريق وتنوي العودة للطريق. من هو الملزم بواجب اعطاء الاولوية لبقية العربات؟

- ج. انا ملزم بواجب اعطاء الاولوية
- د. السيارة الموجودة خلفي في الطريق تعطيني الاولوية



21 - تريد نقل سرير على سقف سيارتك في طريق عام . عرض سيارتك (160) سم . ما هو العرض الأقصى للسريير؟

- أ. العرض الأقصى يجب ان يكون (160)
- ب. العرض الأقصى يجب ان يكون (180)
- ج. العرض الأقصى يجب ان يكون (200)
- د. العرض الأقصى يجب ان يكون (220)

22 - ما هي اكثر الحوادث شيوعا عندما ينعطف السائق نحو اليسار على طريق ريفي؟

- أ. اصطدام مع عربة قادمة من جهة اليسار في التقاطع
- ب. اصطدام مع عربة قادمة من جهة اليمين في التقاطع
- ج. اصطدام مع عربة قادمة من الخلف
- د. اصطدام مع عربة قادمة من الجهة المقابلة

23 - عند اجراء فحص قوي للفرامل، كيف يمكنك ان تحدد ما اذا كانت الفرامل غير القابلة للانغلاق (ا بيه اس ABS) تعمل بشكل صحيح؟

- أ. تسمع صوتا قويا من الدواليب
- ب. تشعر باهتزاز في دواسة الفرامل
- ج. لاحظ ان العجلات تتغلق

24 - انت تسوق خلف هذه المركبة. هل يسمح لك بتجاوزها؟

- أ. نعم، اذا كانت المركبة امامي تسوق في هامش الطريق  
ب. نعم، ولكن اذا لم تكن احد العجلات خارج خط التواصل  
ج. لا، لا يسمح لي بالتجاوز  
د. نعم، اذا كانت المركبة امامي هي مركبة بطيئة



25 - ما هو القانون الساري عندما تحتاج لاستعمال الدوالب الاحتياطي؟

- أ. يمنع استعمال الدوالب في السيارة فيما لو كانت الدواليب الأخرى مسمرة  
ب. الدوالب يهترئ بشكل اسرع من الدواليب الأخرى  
ج. يمنع السياقة في هذا الدوالب بسرعة اكثر مما هو مكتوب على الدوالب  
د. يسمح باستخدام الدوالب فقط على الطرق اليابسة  
هـ. لا يسمح بالسياقة أسرع من (30) كم في الساعة بهذا الدوالب او الأطار

26 - الأنواع المختلفة لطرق السياقة تعني انه تؤثر على البيئة بطرق مختلفة. وطريقة السياقة تختلف حسب اسلوب السائق والركاب. اي من هذه المجموعة مبدئيا تعني ان طريقة السياقة تؤثر بشكل اكثر طريقة سلبية على السير؟

- أ. السائق والركاب نساء شابات  
ب. السائق رجل متوسط السن والركاب نساء  
ج. السائق امرأة متوسطة السن والركاب رجال  
د. السائق والركاب شباب صغار



27 - في أي من هذه الحالات لا يحق لك التوقف من أجل تنزيل الركاب؟

أ. في الصورة (A)

ب. في الصورة (B)

ج. في الصورة (C)



28 - كثيرا من المواقف الخطرة تحدث عندما يقوم السائق بالتجاوز بالرغم من وجود عربات قادمة فما هو السبب؟

أ. السبب انه من الصعب تقدير بعد وسرعة المركبة القادمة

ب. السبب انه من الصعب تقدير سرعة العربة الموجودة امامي

ج. السبب انه من الصعب تقدير سرعة سيارتي

29 - هل يسمح لك الانعطاف الى اليسار في التقاطع؟

أ. لا، يجب ان انعطف الى اليمين فقط

ب. نعم، هذا مسموح

ج. لا، يجب ان استمر في القيادة الى الامام



30 - أنت تنوي الوقوف قرب موقف الباص حيث لا يوجد علامة في اي منطقة ممنوع الوقوف؟

- أ. مسافة (10) متر قبل الموقف و (10) متر بعد موقف الباص
- ب. مسافة (12) متر قبل الموقف و (12) متر بعد موقف الباص
- ج. مسافة (20) متر قبل الموقف و مباشرة بعد موقف الباص
- د. مسافة (20) متر قبل الموقف و (5) متر بعد موقف الباص

31 - باي طريقة تستطيع التأثير على استعمال البنزين في السيارة؟

- أ. استخدام البنزين يكون اقل اذا استخدمت جهاز تدفئة المحرك في الشتاء
- ب. استخدام البنزين يقل إذا إنا أسوق في الغيارات الأقل
- ج. عملية صرف البنزين تزيد اذا السيارة بشكل منتظم تذهب الى الصيانة
- د. عملية صرف البنزين تكون اكثر اذا كانت الاطارات فيها هواء اكثر من اللازم

32 - ما هو الشيء الملاحظ لدى السائق انه يسوق بشكل سلبي ( عشوائي)؟

- أ. يخرجون من مواقف خطرة بسهولة
- ب. يتصرف اولا ويفكر ثانيا
- ج. نادرا ما يغيرون السرعة
- د. يسوقون سياقة هادئة

33 - عند حدوث شئ غير متوقع فإن رد الفعل السائق الشاب تكون عادة ابطأ من ردة فعل السائق الذي عمره بحدود الخمسين والذي لديه خبرة جيدة في السياقة . ما هو السبب؟

- أ. السائقين الشباب عادة لا يكون عندهم ثقة بأنفسهم .
- ب. السائقين الذين عندهم خبرة يكونون دائما جاهزين بان قد يحدث شئ غير متوقع.
- ج. السائقين الذين عندهم خبرة عادة يسوقون ببطئ

34 - أنت تنوي الاستدارة باتجاه اليسار في هذا التقاطع ما هو الاحتمال الصحيح؟

- أ. يجب ان اعطي الاولوية لكافة المركبات الموجودة في التقاطع
- ب. يجب ان اقف قبل ان استدير في التقاطع
- ج. يجب ان اعطي الأولوية للعربات القادمة من اليمين



35 - أنت تنوي السياقة باتجاه الأمام والدراجة تسوق ببطء . كيف تتصرف؟

- أ. أسوق أولاً بما إنني انوي السير باتجاه الأمام
- ب. ادع الدراجة تسوق أولاً بما انها تأتي من جهة اليمين
- ج. أسوق أولاً لكوني أسوق في طريق عريض و واسع



36 - ما هو الضوء الواجب استخدامه عند التقاطع في الظلام؟

- أ. ضوء التوقف
- ب. الضوء العادي
- ج. الضوء العالي
- د. ضوء الأشعار



37 - ماذا تعني شاخصة الطريق؟

- أ. ممنوع تجاوز السيارات الشخصية فقط
- ب. ممنوع تجاوز جميع العربات التي تدار بمحرك
- ج. ممنوع تجاوز جميع العربات التي تدار بمحرك و لها اكثر من عجلتين



38 - لكي تقلل خطر الإصابة بالأم الرقبة يجب ان يكون مسند الرأس موضوع بشكل صحيح. ما هو المطلوب لذلك؟

- أ. أن استعمل حزام الامان بطريقة صحيحة
- ب. أن تكون السيارة مجهزة بفرامل (ABS)
- ج. أن تكون السيارة مجهزة ببالون حماية
- د. أن تكون السيارة مجهزة بنظام مانع للانزلاق

39 - أنت تسوق بسرعة (70) كم/سا، على الطريق الريفي، الدولابان في جهة اليمين خرجوا من الطريق خارج الاسفلت ماذا تفعل وكيف تتصرف؟

- أ. اترك دعسة البنزين ووجه السيارة بحذر الى حقل السياقة
- ب. أفرمل بهدوء وألف عجلة القيادة بسرعة حتى أعود بسرعة الى حقل السياقة
- ج. أفرمل بقوة وألف عجلة القيادة بحذر حتى أعود بسرعة الى حقل السياقة
- د. احافظ على نفس سرعتي والى عجلة القيادة بحذر الى حقل السياقة

40 - هل تستطيع من خلال اختيار الطريق المناسب، التقليل من اضرار البيئة؟

- أ. من خلال اختيار طريق غالبا ما اسوق به يغيار واطى
- ب. من خلال اختيار طريق اتوقف به كثيرا واترك المحرك يدور بدون فائدة
- ج. من خلال اختيار طريق ابدل فيه السرعة عدة مرات
- د. من خلال اختيار طريق ذو سرعة ثابتة واقف فيه اقل عدد ممكن

41 - انت تريد ان تتجاوز الباص الواقف على الموقف. هل يحق لك تجاوزه؟

- أ. نعم، بسرعة بطيئة وجاهز للتصرف  
ب. كلا، لأن غمازات لوحة الاطفال شغالة  
ج. كلا، لأن الباص وقف من أجل تنزيل أطفال المدارس  
د. كلا، لأن الباص يؤشر لليمين



42 - سائق سيارة وزنه (70) كغ حمل في سيارته (120) كغ في الصندوق بدون الركاب ما هو الوزن الفعلي (الصافي) للسيارة؟

| <u>معلومات بخصوص السيارة:</u> |                |                            |
|-------------------------------|----------------|----------------------------|
| الوزن الكلي                   | الحمولة القصوى | وزن الخدمة الفعلية للسيارة |
| (1370) كغم                    | (390) كغم      | (980) كغم                  |

- أ. الوزن الفعلي (الصافي) للسيارة (980) كغم  
ب. الوزن الفعلي (الصافي) للسيارة (1000) كغم  
ج. **الوزن الفعلي (الصافي) للسيارة (1100) كغم**  
د. الوزن الفعلي (الصافي) للسيارة (1170) كغم

43 - أنت تقترب من مرتفع او صعود كما هو مبين في الصورة. أين يجب عليك وضع سيارتك في هذه الحالة؟

- أ. قريبا جدا من جهة اليمين حتى يكون هناك مجال بيني وبين السيارات القادمة
- ب. قريبا من منتصف الطريق حتى لا يكون هناك خطر ان ادوس احد المشاة او احد الدراجات الموجودة في يمين الطريق
- ج. موضع السيارة ليس له معنى فيما لو كانت سرعتي مناسبة حسب هذه الحالة



44 - ماهو القانون الساري في التقاطع عندما تنوي الأستمرار بالسياسة باتجاه الأمام؟

- هـ. يجب على ان اقوم باعطاء الأولوية حسب قاعدة اليمين لكوني اسوق في الطريق الريفي الصغير ( الطريق الخاص).
- و. لكوني اريد الأستمرار بالسياسة باتجاه الأمام سوف اسوق اولاً
- ز. السائق في السيارة القادمة من جهة اليمين يجب ان يعطي اولوية السياسة لي لكونه قادم من الطريق الخاص.
- ح. كوني اسوق في الطريق العام يجب ان اسوق اولاً



45 - أنت تقف على جانب الطريق وتنتظر شخص متأخر . الطريق مظلم ولا يوجد فيه انارة. أي ضوء سوف تستخدم؟

أ. ضوء الوقوف

ب. الضوء العادي

ج. الغمازات

د. الضوء العالي

46 - انت تنوي الاستدارة الى اليمين. ما هو الخطر المفاجيء الموجود في هذه الحالة؟

أ. الدراجات والموبيدات القادمة من الخلف على مسار الدراجات

ب. السيارات المقابلة

ج. المركبات في التقاطع

د. المشاة على خط العبور





47 - هل يسمح لك بسياقه شاحنة خفيفة تسحب خلفها مقطورة بعد هذه الشاخصة؟

- أ. نعم، لان هذه الشاخصة تحدد أقل مسافة بين السيارات
- ب. نعم، و فقط اذا كانت السيارة والمقطورة غير محملة
- ج. كلا، لان الطريق مخصص فقط للسيارات الخاصة
- د. كلا، لان الشاخصة تعني انه غير مسموح للمقطورة



48 - ماذا يعني خط الوسط الموجود في منتصف الطريق؟

- أ. انه يعني ان السرعة القصوى المسموحة هي (70) كم/سا
- ب. انه يؤشر منتصف الطريق
- ج. انه يحذر من وجود خط متواصل بعيدا للامام
- د. ممنوع تجاوز هذا الخط

49 - كيف تؤثر المسافة بينك وبين السيارة الموجودة امامك على زيادة امان السير؟

- أ. المسافة القصيرة تزيد الامان عندما انوي تجاوز السيارة التي أمامي
- ب. المسافة الطويلة تسهل التجاوز للمركبات الموجودة خلفي
- ج. المسافة القصيرة تعيق التجاوزات الخطرة


50 - أنت تنوي القيام باجتياز السيارة الشاحنة التي تسير في منتصف الطريق. ما هو القانون الساري؟

- أ. مسموح التجاوز من حقل السير اليميني  
ب. يجب ان اتجاوز من حقل السير اليساري



51 - عندما كنت تسوق السيارة اضيئت في لوحة البيان اللمبة الخاصة بالبطارية، ماذا يعني ذلك؟

- أ. البطارية لا تشحن بشكل كافي  
ب. هناك تلامس او احتكاك كهربائي بمكان ما في المحرك  
ج. اصبحت البطارية ساخنة جدا يجب ان تقف



52 - في أي ايام من الاسبوع تقع اكثر حوادث الموت في المرور ويموت فيها شباب؟

- أ. الاثنين والثلاثاء
- ب. الأربعاء والخميس
- ج. الجمعة، السبت والأحد

53 - ماذا تعني الشاخصة؟

- أ. ممنوع سيطرة التراكاتورات او الجرارات
- ب. الرجوع مسموح على جانب الطريق
- ج. ممكن أن يكون تقاطعات على الطريق
- د. ممنوع السوق بسرعة ابطاً من (40) كم/سا



54 - ما هي كمية ثاني أوكسيد الكربون التي يصفها المرشح الحافز او الكاتيلساتور؟

- أ. لا شئ يصفى المرشح الحافز
- ب. المرشح الحافز يصفى كل ثاني أوكسيد الكربون
- ج. المرشح الحافز يصفى نصف ثاني أوكسيد الكربون

55 - ما هو تأثير ثاني أوكسيد الكربون؟

- أ. ثاني اوكسيد الكربون يؤثر على القلب والشرابين
- ب. ثاني اوكسيد الكربون لا يوجد في البنزين الخالي من الرصاص
- ج. ثاني اوكسيد الكربون يؤدي الى ما يسمى بتأثير البيوت الزجاجية الذي يسبب ارتفاع درجة الحرارة.

56 - ما هو انصب موضع عند الانعطاف لليمين في التقاطع في الصورة؟

- أ. ساضع السيارة الى اقصى اليمين في حقل القيادة
- ب. ساضع السيارة الى اقصى اليمين على جانب الطريق
- ج. ساضع السيارة قرب خط الوسط
- د. ساضع السيارة في وسط حقل السياقة



57 - هل مسموح اركان السيارة على جانب اليسار كما موضح على الطريق في الصورة ادناه؟

- أ. كلا، الشاخصة تعني ممنوع اركان السيارة على جانبي الطريق
- ب. نعم، مسموح بهذا الشارع
- ج. نعم، فقط اذا كنت جالس في السيارة
- د. كلا، ممنوع اركان جهة اليسار



58 - انت تنوي السياقة باتجاه الأمام الإشارة تضيء باللون الأصفر المتقطع. ماذا يسري في هذه الحالة؟

- أ. انا ملزم بالوقوف وترك الأولوية للمركبات القادمة من اليمين واليسار  
ب. يجب على اعطاء الأولوية للمركبات القادمة من اليمين واليسار ولكن غير ملزم بالوقوف.  
ج. انا ملزم بترك الأولوية فقط للمركبات القادمة من جهة اليمين



59 - أي احتمال يصف بأفضل طريقة نضوج الاشخاص كسائقين في حركة المرور؟

- أ. يتفهمون الاخطار والصعوبات عند بقية السائقين السائرين في حركة المرور  
ب. ينفذون القواعد السارية بكل ظروف السير  
ج. من الممكن ان تقصر مسافة الفرملة عندما يسوقوا بسرعة عالية  
د. ممكن ان يخرجوا بسرعة من مواقف خطرة من خلال سوقهم بطريقة عفوية

60 - ما هي نتيجة او عاقبة السياقة باستمرار عندما تضيء ضوء الضباب الخلفي؟

- أ. السائقين الذي خلفي ممكن أن يؤدي نظرهم  
ب. من المحتمل ان تنتهي البطارية  
ج. تسخن اللمبة بسهولة

61 - تصل الى مكان فيه خطوط بيضاء وخطوط صفراء او برتقالية اللون على مسار القيادة. ماذا يعني ذلك؟

- أ. بإمكانني أن اختار الخطوط البيضاء او الخطوط البرتقالية اللون
- ب. يجب اتباع الخطوط البيضاء
- ج. يجب اتباع الخطوط الصفراء او البرتقالية

62 - لماذا يجب وضع كرسي الأطفال بالمقلوب؟

- أ. حتى لا يشعر الطفل بالدوخة عند القيادة
- ب. حماية رأس ورقبة الطفل بشكل أفضل
- ج. حتى يصبح اتصال الطفل مع بقية الركاب سهلا

63 - أنت تسوق بسرعة (90) كم/سا في يوم صيفي مشمس ما هي أقل مسافة تقريبية يجب تركها بينك وبين السيارة الموجودة امامك؟

- أ. (90) متر
- ب. (50) متر
- ج. (30) متر

64 - هل يحق لك تجاوز المركبة مباشرة قبل مرتفع او هضبة فيما لو كانت الرؤيا محجوبة وكان هناك حقل واحد في كل اتجاه؟

- أ. كلا، لا يجوز ذلك
- ب. نعم، اذا كانت المركبة التي أريد ان أتجاوزها تراكتور مع مقطورة
- ج. نعم، اذا كانت المركبة التي أريد ان أتجاوزها قد أعطت إشارة بالغماز، معناها انه لا يوجد سيارات قادمة.

65 - أي من هؤلاء السائقين يتعرض كثيرا لحوادث مميته في المرور؟

أ. النساء بعمر (18) سنة

ب. النساء بعمر (30) سنة

ج. النساء بعمر (45) سنة

د. النساء بعمر (60) سنة

66 - هل عندك واجب اعطاء الاولوية للمشاة في هذا الوضع؟

أ. نعم . بما ان معبر المشاة غير محروس عندما لا تضيئ الاشارة الضوئية.

ب. لا . بما ان المشاة مازالوا لم يعبروا على معبر المشاة

ج. لا . بما انه يوجد اشارة ضوئية



67 - أنت وصلت الى هذه الشاخصة في يوم صيفي حار. لماذا يجب أن تقلل السرعة؟

- أ. الطريق يمكن ان يكون زلق بسبب الإسفلت المائع بسبب الحرارة
- ب. الطريق يحصل فيه حوادث كثيرة
- ج. الطريق فيه منعطف أو منعطفات كثيرة بعد الشاخصة



68 - أنت وصلت الى حادث سير ما هي أفضل طريقة لمساعدة شخص مصاب بصدمة عصبية؟

- أ. أضع الشخص بشكل يكون رأسه في الأسفل ورجليه في الأعلى وأتكلم معه بهدوء. واحاول أن أحافظ على حرارته بأن أعطيه بشرشف او ماشابه.
- ب. أحاول اشغال الشخص المصاب بشئ ما حتى لا يفكر بالحادث
- ج. يجب ان يجلس الشخص المصاب على الارض وجهه بحيث لا يرى الحادث



69 - ما هو الشيء الذي يجب أن تكون مستعداً له بالدرجة الأولى في الشكل أدناه؟

- أ. أن يعبر مشاة على معبر المشاة
- ب. أن تأتي سيارة من جهة اليسار في التقاطع
- ج. أن يقفز أطفال من أمام العربة المتوقفة



70 - عندما تستدير إلى اليمين فأنت تتقاطع مع مسار دراجات ما هو الصحيح؟

- أ. عندما تصبح الإشارة خضراء فأنت ملزم بترك الأولوية للدراجات
- ب. الدراجات لن تكون إشارتها خضراء عندما تصبح إشارتك خضراء
- ج. الدراجات لها الأولوية حسب قانون اليمين

71 - ما هو الصحيح بخصوص الإشارة الضوئية أدناه؟

- أ. لا يوجد أي خطورة عند القيام باجتياز سكة القطار
- ب. هذه الإشارة الضوئية المتناوبة تعني زياد الانتباه بخصوص وجود قطار أو خطر ما عند السياقة هنا.
- ج. هذه الشاخصة لا تدل على أي شيء

